

Telangana State Commissioner and Director of School Education

Notations :

- 1.Options shown in green color and with ✓ icon are correct.
- 2.Options shown in red color and with ✗ icon are incorrect.

Question Paper Name :	Urdu Medium 01st Jun 2023 Shift 2
Subject Name :	Urdu Medium
Creation Date :	2023-06-01 17:35:32
Duration :	120
Total Marks :	100
Display Marks:	Yes
Share Answer Key With Delivery Engine :	Yes
Calculator :	None
Magnifying Glass Required? :	No
Ruler Required? :	No
Eraser Required? :	No
Scratch Pad Required? :	No
Rough Sketch/Notepad Required? :	No
Protractor Required? :	No
Show Watermark on Console? :	Yes
Highlighter :	No
Auto Save on Console?	Yes
Change Font Color :	No
Change Background Color :	No
Change Theme :	No
Help Button :	No
Show Reports :	No
Show Progress Bar :	No

Urdu Medium

Group Number :	1
Group Id :	1340078
Group Maximum Duration :	0
Group Minimum Duration :	120
Show Attended Group? :	No
Edit Attended Group? :	No
Break time :	0

Group Marks :	100
Is this Group for Examiner? :	No
Examiner permission :	Cant View
Show Progress Bar? :	No

General Knowledge and Teaching Aptitude

Section Id :	13400750
Section Number :	1
Section type :	Online
Mandatory or Optional :	Mandatory
Number of Questions :	10
Number of Questions to be attempted :	10
Section Marks :	10
Enable Mark as Answered Mark for Review and Clear Response :	Yes
Maximum Instruction Time :	0
Sub-Section Number :	1
Sub-Section Id :	13400756
Question Shuffling Allowed :	Yes
Is Section Default? :	null

Question Number : 1 Question Id : 134007707 Question Type : MCQ Option Shuffling : No Is Question Mandatory : No Calculator : None Response Time : N.A Think Time : N.A Minimum Instruction Time : 0

Correct Marks : 1 Wrong Marks : 0

ہندوستان کی مردوں کی قومی کرکٹ ٹیم نے کس سال اپنا پہلا بین الاقوامی ٹسٹ میچ کھیلا؟

Options :

1. ✘ 1952

2. ✘ 1947

3. ✔ 1932

4. ✘ 1936

Question Number : 2 Question Id : 134007708 Question Type : MCQ Option Shuffling : No Is Question Mandatory : No Calculator : None Response Time : N.A Think Time : N.A Minimum Instruction Time : 0

Correct Marks : 1 Wrong Marks : 0

فروری 2023 میں اس ملک میں زلزلہ آیا تھا جس میں تقریباً 50,000 افراد ہلاک ہوئے تھے۔

Options :

1. ✓ ترکی

2. ✘ عراق

3. ✘ ایران

4. ✘ سوڈان

Question Number : 3 Question Id : 134007709 Question Type : MCQ Option Shuffling : No Is Question Mandatory : No Calculator : None Response Time : N.A Think Time : N.A Minimum Instruction Time : 0

Correct Marks : 1 Wrong Marks : 0

Femina مس انڈیا 2023 کی فاتح ہے۔

Options :

1. ✘ Megan Edward میگن ایڈورڈ

2. ✓ Nandini Gupta نندنی گپتا

3. ✘ Apoorva Chawan اپورو اچوان

4. ✘ Aditi Sharma ادیتی شرما

Question Number : 4 Question Id : 134007710 Question Type : MCQ Option Shuffling : No Is
Question Mandatory : No Calculator : None Response Time : N.A Think Time : N.A Minimum
Instruction Time : 0

Correct Marks : 1 Wrong Marks : 0

مندرجہ ذیل سائنسی اداروں میں سے ایک تلنگانہ میں واقع ہے۔

Options :

سنٹرل ڈرگ ریسرچ انسٹی ٹیوٹ

(Central Drug Research Institute)

1. ✘

مرکز برائے سیلولر اور سالماتی حیاتیات

(Centre for Cellular and Molecular Biology)

2. ✔

انسٹی ٹیوٹ آف نینوسائنس اینڈ ٹیکنالوجی

(Institute of Nano Science and Technology)

3. ✘

انڈین انسٹی ٹیوٹ آف انٹیگرٹیو میڈیسن

(Indian Institute of Integrative Medicine)

4. ✘

Question Number : 5 Question Id : 134007711 Question Type : MCQ Option Shuffling : No Is
Question Mandatory : No Calculator : None Response Time : N.A Think Time : N.A Minimum
Instruction Time : 0

Correct Marks : 1 Wrong Marks : 0

مندرجہ ذیل میں رقبے کے لحاظ سے ہندوستان سے چھوٹا ملک یہ ہے۔

Options :

Brazil

برازیل

1. ✘

2. ✘ Canada کینیڈا

3. ✘ U.S.A یو۔ ایس۔ اے

4. ✔ Argentinaارجنٹائن

Question Number : 6 Question Id : 134007712 Question Type : MCQ Option Shuffling : No Is Question Mandatory : No Calculator : None Response Time : N.A Think Time : N.A Minimum Instruction Time : 0

Correct Marks : 1 Wrong Marks : 0

بطور ایک استاد آپ۔

Options :

1. ✔ تمام طلباء کو ان کی صلاحیتوں کے مطابق جس شعبہ میں دلچسپی رکھتے ہیں اس میں آگے بڑھنے کی ترغیب دیں گے۔

2. ✘ صرف ایسے طلباء کی حوصلہ افزائی کریں گے جو تعلیمی لحاظ سے بہت اچھے ہیں۔

3. ✘ صرف کھیلوں میں بہتر مظاہرہ کرنے والے طلباء کی حوصلہ افزائی کریں گے۔

4. ✘ صرف فن اور دستکاری میں بہتر مظاہرہ کرنے والے طلباء کی حوصلہ افزائی کریں گے۔

Question Number : 7 Question Id : 134007713 Question Type : MCQ Option Shuffling : No Is Question Mandatory : No Calculator : None Response Time : N.A Think Time : N.A Minimum Instruction Time : 0

Correct Marks : 1 Wrong Marks : 0

ان میں سے کس کا علم ایک استاد کے لئے ضروری ہے۔

ICT (A)

بچے کی نشوونما (B)

تعلیمی پالیسیاں (C)

Options :

C اور B، A

1. ✓

B اور A صرف

2. ✗

C اور B صرف

3. ✗

C اور A صرف

4. ✗

Question Number : 8 Question Id : 134007714 Question Type : MCQ Option Shuffling : No Is Question Mandatory : No Calculator : None Response Time : N.A Think Time : N.A Minimum Instruction Time : 0

Correct Marks : 1 Wrong Marks : 0

اساتذہ کی مسلسل پیشہ وارانہ ترقی سے متعلق درست بیان کا انتخاب کیجئے۔

Options :

پری پرائمری سطح کے اساتذہ کے لئے مسلسل پیشہ وارانہ ترقی اہم نہیں ہے۔

1. ✗

تمام سطح کے اساتذہ کے لئے مسلسل پیشہ وارانہ ترقی اہم ہے۔

2. ✓

مسلسل پیشہ وارانہ ترقی سے اساتذہ کی آئی سی ٹی (ICT) مہارتوں میں بہتری نہیں لائی جاسکتی ہے۔

3. ✘

ایلیمنٹری سطح کے اساتذہ کو صرف مضمون کے علم میں مسلسل پیشہ وارانہ ترقی کی ضرورت ہے۔

4. ✘

Question Number : 9 Question Id : 134007715 Question Type : MCQ Option Shuffling : No Is Question Mandatory : No Calculator : None Response Time : N.A Think Time : N.A Minimum Instruction Time : 0

Correct Marks : 1 Wrong Marks : 0

اساتذہ کے تعلیمی پروگراموں کے انعقاد کے لئے کسی بھی ٹیچر ایجوکیشن ادارے کو اس ادارے سے مسلمہ حیثیت حاصل ہونی چاہیے۔

Options :

RIE

1. ✘

NCERT

2. ✘

NCTE

3. ✓

CBSE

4. ✘

Question Number : 10 Question Id : 134007716 Question Type : MCQ Option Shuffling : No Is Question Mandatory : No Calculator : None Response Time : N.A Think Time : N.A Minimum Instruction Time : 0

Correct Marks : 1 Wrong Marks : 0

مندرجہ ذیل میں سے کس طالب علم کی عدم برداشت ایک استاد کے لئے قابل قبول نہیں ہے۔

(A) وہ جو جلدی پڑھنا نہیں سیکھتے۔

(B) وہ جو جسمانی معذوری کا شکار ہیں۔

(C) وہ جو جماعت میں خلل ڈالتے رہتے ہیں۔

Options :

1. ✘ صرف A

2. ✘ صرف B

3. ✘ صرف C

4. ✔ C اور B ، A

General English

Section Id :	13400751
Section Number :	2
Section type :	Online
Mandatory or Optional :	Mandatory
Number of Questions :	10
Number of Questions to be attempted :	10
Section Marks :	10
Enable Mark as Answered Mark for Review and Clear Response :	Yes
Maximum Instruction Time :	0
Sub-Section Number :	1
Sub-Section Id :	13400757
Question Shuffling Allowed :	Yes
Is Section Default? :	null

Question Number : 11 Question Id : 134007717 Question Type : MCQ Option Shuffling : No Is Question Mandatory : No Calculator : None Response Time : N.A Think Time : N.A Minimum Instruction Time : 0

Correct Marks : 1 Wrong Marks : 0

Since he is my neighbour, I am acquainted ----- him.

Complete the sentence with the correct word.

Options :

1.  on

2.  with

3.  by


4.  for


Question Number : 12 Question Id : 134007718 Question Type : MCQ Option Shuffling : No Is Question Mandatory : No Calculator : None Response Time : N.A Think Time : N.A Minimum Instruction Time : 0


Correct Marks : 1 Wrong Marks : 0


Choose the correct sentence.

Options :

1.  It has been raining since four hours.

2.  I know where do you live.

3.  Its three years since we have seen you.

4.  I rang the bell so no one answered.

Question Number : 13 Question Id : 134007719 Question Type : MCQ Option Shuffling : No Is Question Mandatory : No Calculator : None Response Time : N.A Think Time : N.A Minimum Instruction Time : 0

Correct Marks : 1 Wrong Marks : 0

The minister said, " I am an honourable person."

The sentence can be rewritten as

Options :

1. ✘ The minister said that he is an honourable person.
2. ✘ The minister said that he has been an honourable person.
3. ✘ The minister said that he had been an honourable person.
4. ✔ The minister said that he was an honourable person.

Question Number : 14 Question Id : 134007720 Question Type : MCQ Option Shuffling : No Is Question Mandatory : No Calculator : None Response Time : N.A Think Time : N.A Minimum Instruction Time : 0

Correct Marks : 1 Wrong Marks : 0

He made us work all day- this sentence can be rewritten as

Options :

1. ✘ We were made work all day by him.
2. ✔ We were made to work all day by him.
3. ✘ We were made of work all day by him.
4. ✘ We were made for work all day by him.

Question Number : 15 Question Id : 134007721 Question Type : MCQ Option Shuffling : No Is Question Mandatory : No Calculator : None Response Time : N.A Think Time : N.A Minimum Instruction Time : 0

Correct Marks : 1 Wrong Marks : 0

Neither of the two brothers complained, -----?

Choose the suitable question tag.

Options :

1. ✓ did they
2. ✗ were they
3. ✗ did he
4. ✗ does he

Question Number : 16 Question Id : 134007722 Question Type : MCQ Option Shuffling : No Is Question Mandatory : No Calculator : None Response Time : N.A Think Time : N.A Minimum Instruction Time : 0

Correct Marks : 1 Wrong Marks : 0

As soon as the match started, everyone cheered- this sentence can be rewritten as

Options :

1. ✗ No sooner has the match started then everyone cheered.
2. ✗ No sooner had the match started then everyone had cheered.
3. ✗ No sooner has the match started than everyone cheered.
4. ✓ No sooner had the match started than everyone cheered.

Question Number : 17 Question Id : 134007723 Question Type : MCQ Option Shuffling : No Is Question Mandatory : No Calculator : None Response Time : N.A Think Time : N.A Minimum Instruction Time : 0

Correct Marks : 1 Wrong Marks : 0

Very few Indian kings were as popular as Ashoka- this sentence can be rewritten as

Options :

1. ✘ Ashoka was more popular than any other Indian king.
2. ✔ Ashoka was more popular than most other Indian kings.
3. ✘ Ashoka was the most popular Indian king.
4. ✘ Ashoka was a popular Indian king.

Question Number : 18 Question Id : 134007724 Question Type : MCQ Option Shuffling : No Is Question Mandatory : No Calculator : None Response Time : N.A Think Time : N.A Minimum Instruction Time : 0

Correct Marks : 1 Wrong Marks : 0

Had I known of your arrival, I ----- you.

Choose the suitable answer to complete the sentence.

Options :

1. ✘ will meet
2. ✔ will have met
3. ✘ would meet
4. ✘ would have met

Question Number : 19 Question Id : 134007725 Question Type : MCQ Option Shuffling : No Is Question Mandatory : No Calculator : None Response Time : N.A Think Time : N.A Minimum Instruction Time : 0

Correct Marks : 1 Wrong Marks : 0

I could not ----- what he wanted to say.

Choose the suitable answer to complete the sentence.

Options :

1. ✘ make up
2. ✘ make on
3. ✔ make out
4. ✘ make of

Question Number : 20 Question Id : 134007726 Question Type : MCQ Option Shuffling : No Is Question Mandatory : No Calculator : None Response Time : N.A Think Time : N.A Minimum Instruction Time : 0

Correct Marks : 1 Wrong Marks : 0

I could not help to laugh at the joke- choose the correct option to replace the underlined part.

Options :

1. ✔ laughing
2. ✘ laughed
3. ✘ laugh
4. ✘ having laughed

General Urdu

Section Id :	13400752
Section Number :	3
Section type :	Online
Mandatory or Optional :	Mandatory
Number of Questions :	20
Number of Questions to be attempted :	20
Section Marks :	20
Enable Mark as Answered Mark for Review and Clear Response :	Yes
Maximum Instruction Time :	0
Sub-Section Number :	1
Sub-Section Id :	13400758
Question Shuffling Allowed :	Yes
Is Section Default? :	null

Question Number : 21 Question Id : 134007727 Question Type : MCQ Option Shuffling : No Is Question Mandatory : No Calculator : None Response Time : N.A Think Time : N.A Minimum Instruction Time : 0
Correct Marks : 1 Wrong Marks : 0

شاداں پڑھتے پڑھتے سو گئی۔ یہ مثال ہے۔

Options :

1. ✓ تکرار لفظی

2. ✘ تابع

3. ✘ مبالغہ

4. ✘ ردیف

Question Number : 22 Question Id : 134007728 Question Type : MCQ Option Shuffling : No Is Question Mandatory : No Calculator : None Response Time : N.A Think Time : N.A Minimum Instruction Time : 0

Correct Marks : 1 Wrong Marks : 0

جملے کے دو عناصر ہیں۔

Options :

1. ✓ مبتدا - خبر

2. ✗ فعلیہ - اسمیہ

3. ✗ حرف - جملہ

4. ✗ حروف - الفاظ

Question Number : 23 Question Id : 134007729 Question Type : MCQ Option Shuffling : No Is Question Mandatory : No Calculator : None Response Time : N.A Think Time : N.A Minimum Instruction Time : 0

Correct Marks : 1 Wrong Marks : 0

اس صنف میں ٹیپ کا مصرعہ ہوتا ہے۔

Options :

1. ✗ غزل

2. ✓ گیت

3. ✗ قصیدہ

4. ✗ مرثیہ

Question Number : 24 Question Id : 134007730 Question Type : MCQ Option Shuffling : No Is Question Mandatory : No Calculator : None Response Time : N.A Think Time : N.A Minimum Instruction Time : 0

Correct Marks : 1 Wrong Marks : 0

حرف 'غ' کی قیمت ہے۔

Options :

1. ✘ 400

2. ✔ 1000

3. ✘ 450

4. ✘ 2000

Question Number : 25 Question Id : 134007731 Question Type : MCQ Option Shuffling : No Is Question Mandatory : No Calculator : None Response Time : N.A Think Time : N.A Minimum Instruction Time : 0

Correct Marks : 1 Wrong Marks : 0

یہ ایک محاورہ ہے۔

Options :

1. ✘ گلبدن

2. ✔ مونچھ پر ہاتھ پھیرنا

3. ✘ سردرد

کھانا کھانا

4. ✖

Question Number : 26 Question Id : 134007732 Question Type : MCQ Option Shuffling : No Is Question Mandatory : No Calculator : None Response Time : N.A Think Time : N.A Minimum Instruction Time : 0

Correct Marks : 1 Wrong Marks : 0

یہ مختصر افسانہ کے اجزاء ترکیبی میں سے نہیں ہے۔

Options :

پلاٹ

1. ✖

مکالمہ

2. ✖

ردیف

3. ✔

منظر کشی

4. ✖

Question Number : 27 Question Id : 134007733 Question Type : MCQ Option Shuffling : No Is Question Mandatory : No Calculator : None Response Time : N.A Think Time : N.A Minimum Instruction Time : 0

Correct Marks : 1 Wrong Marks : 0

موت کا ایک دن معین ہے

نیند کیوں رات بھر نہیں آتی

اس شعر میں یہ صنعت پائی جاتی ہے۔

Options :

تشبیہ

1. ✖

2. ✘ تالیح
3. ✘ مبالغه
4. ✔ تجاہل عارفانہ

Question Number : 28 Question Id : 134007734 Question Type : MCQ Option Shuffling : No Is Question Mandatory : No Calculator : None Response Time : N.A Think Time : N.A Minimum Instruction Time : 0
Correct Marks : 1 Wrong Marks : 0

کسی کی تعریف بڑھا چڑھا کر کرنا کہلاتا ہے۔

Options :

1. ✘ حسن تغلیل
2. ✘ استعارہ
3. ✔ مبالغہ
4. ✘ گیت

Question Number : 29 Question Id : 134007735 Question Type : MCQ Option Shuffling : No Is Question Mandatory : No Calculator : None Response Time : N.A Think Time : N.A Minimum Instruction Time : 0
Correct Marks : 1 Wrong Marks : 0

غزل کے لغوی معنی ہے۔

Options :

1. ✘ غزل کہنا
2. ✘ شعر لکھنا
3. ✔ عورتوں سے بات کرنا
4. ✘ عورتوں کو باتیں کرنا

Question Number : 30 Question Id : 134007736 Question Type : MCQ Option Shuffling : No Is Question Mandatory : No Calculator : None Response Time : N.A Think Time : N.A Minimum Instruction Time : 0

Correct Marks : 1 Wrong Marks : 0

ہم وزن الفاظ کہلاتے ہیں۔

Options :

1. ✘ مطلع
2. ✔ قافیہ
3. ✘ حسن مطلع
4. ✘ ردیف

Question Number : 31 Question Id : 134007737 Question Type : MCQ Option Shuffling : No Is Question Mandatory : No Calculator : None Response Time : N.A Think Time : N.A Minimum Instruction Time : 0

Correct Marks : 1 Wrong Marks : 0

یہ علامتِ اضافت ہے۔

Options :

1. ✓ کا۔ کے۔ کی

2. ✘ نے۔ سے

3. ✘ کون

4. ✘ پر۔ بر

Question Number : 32 Question Id : 134007738 Question Type : MCQ Option Shuffling : No Is Question Mandatory : No Calculator : None Response Time : N.A Think Time : N.A Minimum Instruction Time : 0

Correct Marks : 1 Wrong Marks : 0

یہ مرکب تو صنفی کی مثال ہے۔

Options :

1. ✓ نیلا آسمان

2. ✘ احمد کا گھر

3. ✘ بیمار ہے

4. ✘ احمد گھر گیا

Question Number : 33 Question Id : 134007739 Question Type : MCQ Option Shuffling : No Is Question Mandatory : No Calculator : None Response Time : N.A Think Time : N.A Minimum

Instruction Time : 0

Correct Marks : 1 Wrong Marks : 0

لفظ ”کوتاہ اندیشی“ کی ضد ہے۔

Options :

1. ❌ اچھی سوچ

2. ❌ بہتر طریقہ

3. ✔️ دور اندیشی

4. ❌ صاحب فراست

Question Number : 34 Question Id : 134007740 Question Type : MCQ Option Shuffling : No Is Question Mandatory : No Calculator : None Response Time : N.A Think Time : N.A Minimum Instruction Time : 0

Correct Marks : 1 Wrong Marks : 0

لفظ ”کہنہ مشق“ کے معنی ہے۔

Options :

1. ❌ اچھی مشق

2. ✔️ تجربہ کار

3. ❌ بہتر مشق

4. ❌ مشق کرنے والا

Question Number : 35 Question Id : 134007741 Question Type : MCQ Option Shuffling : No Is Question Mandatory : No Calculator : None Response Time : N.A Think Time : N.A Minimum Instruction Time : 0

Correct Marks : 1 Wrong Marks : 0

لفظ ”مخت“ کی جمع ہے۔

Options :

1. ✘ مختوں

2. ✘ مختی

3. ✘ مختیں

4. ✔ مہمات

Question Number : 36 Question Id : 134007742 Question Type : MCQ Option Shuffling : No Is Question Mandatory : No Calculator : None Response Time : N.A Think Time : N.A Minimum Instruction Time : 0

Correct Marks : 1 Wrong Marks : 0

لفظ ”مہجور“ کا معنی ہے۔

Options :

1. ✘ قربت پانے والا

2. ✘ ہجرت کرنے والا

3. ✘ آگے آنے والا

4. ✓ جدائی جھیلنے والا

Question Number : 37 Question Id : 134007743 Question Type : MCQ Option Shuffling : No Is Question Mandatory : No Calculator : None Response Time : N.A Think Time : N.A Minimum Instruction Time : 0

Correct Marks : 1 Wrong Marks : 0

یہ لائقہ کی مثال ہے۔

Options :

1. ✘ بے اثر

2. ✘ صاف ہوا

3. ✓ نیل بان

4. ✘ سخت گرمی

Question Number : 38 Question Id : 134007744 Question Type : MCQ Option Shuffling : No Is Question Mandatory : No Calculator : None Response Time : N.A Think Time : N.A Minimum Instruction Time : 0

Correct Marks : 1 Wrong Marks : 0

احمد لکھ رہا ہے۔

یہ جملہ ہے۔

Options :

1. ✓ حالت فاعلی

2. ✘ حالت ندائی

3. ✘ حالت مفعولی

4. ✘ حالت ظرفی

Question Number : 39 Question Id : 134007745 Question Type : MCQ Option Shuffling : No Is Question Mandatory : No Calculator : None Response Time : N.A Think Time : N.A Minimum Instruction Time : 0

Correct Marks : 1 Wrong Marks : 0

یہ حرف شمش کی مثال ہے۔

Options :

1. ✘ عبدالخالق

2. ✔ عبدالشکور

3. ✘ القلم

4. ✘ القمر

Question Number : 40 Question Id : 134007746 Question Type : MCQ Option Shuffling : No Is Question Mandatory : No Calculator : None Response Time : N.A Think Time : N.A Minimum Instruction Time : 0

Correct Marks : 1 Wrong Marks : 0

مصر کا مشہور لباس ہے۔

Options :

1. ✘ نگار

2. ✘ منقش

3. ✘ رنگت

4. ✔ جا ایہ

Mathematics

Section Id :	13400753
Section Number :	4
Section type :	Online
Mandatory or Optional :	Mandatory
Number of Questions :	20
Number of Questions to be attempted :	20
Section Marks :	20
Enable Mark as Answered Mark for Review and Clear Response :	Yes
Maximum Instruction Time :	0
Sub-Section Number :	1
Sub-Section Id :	13400759
Question Shuffling Allowed :	Yes
Is Section Default? :	null

Question Number : 41 Question Id : 134007747 Question Type : MCQ Option Shuffling : No Is Question Mandatory : No Calculator : None Response Time : N.A Think Time : N.A Minimum Instruction Time : 0

Correct Marks : 1 Wrong Marks : 0

اگر $(x^3 - 8)(x^3 + 8)$ کے حاصل ضرب کو کثیر رکنی $p(x) = ax^6 + bx^5 + cx^4 + dx^3 + ex^2 + fx + g$ سے ظاہر کیا

$p(2) =$ گیا ہے تب

Options :

1. ✘ 1

2. ✔ 0

3. ✘ 2

4. ✘ 3

Question Number : 42 Question Id : 134007748 Question Type : MCQ Option Shuffling : No Is Question Mandatory : No Calculator : None Response Time : N.A Think Time : N.A Minimum Instruction Time : 0

Correct Marks : 1 Wrong Marks : 0

مساوات $49x + 51y = 249$ اور $51x + 49y = 251$ کا حل ہے۔

Options :

1. ✘ (-3, -2)

2. ✘ (-2, 3)

3. ✔ (3, 2)

4. ✘ (2, -3)

Question Number : 43 Question Id : 134007749 Question Type : MCQ Option Shuffling : No Is Question Mandatory : No Calculator : None Response Time : N.A Think Time : N.A Minimum Instruction Time : 0

Correct Marks : 1 Wrong Marks : 0

کی قدر ہے۔ $\log_{0.1} 0.001$

Options :

1. ✓ 3

2. ✘ 2

3. ✘ 4

4. ✘ 1

Question Number : 44 Question Id : 134007750 Question Type : MCQ Option Shuffling : No Is Question Mandatory : No Calculator : None Response Time : N.A Think Time : N.A Minimum Instruction Time : 0

Correct Marks : 1 Wrong Marks : 0

اگر دو مشابہہ مثلثات کے اضلاع میں نسبت 4 : 9 ہے۔ تب ان کے رقبوں میں یہ نسبت ہوگی۔

Options :

1. ✘ 3 : 2

2. ✘ 9 : 4

3. ✘ 4 : 9

81 : 16

4. ✓

Question Number : 45 Question Id : 134007751 Question Type : MCQ Option Shuffling : No Is Question Mandatory : No Calculator : None Response Time : N.A Think Time : N.A Minimum Instruction Time : 0

Correct Marks : 1 Wrong Marks : 0

یکجائی تعداد اس کو محسوب کرنے کے لئے استعمال ہوتا ہے۔

Options :

1. ✗ اوسط

2. ✗ سعت

3. ✗ بہتات

4. ✓ وسطانیہ

Question Number : 46 Question Id : 134007752 Question Type : MCQ Option Shuffling : No Is Question Mandatory : No Calculator : None Response Time : N.A Think Time : N.A Minimum Instruction Time : 0

Correct Marks : 1 Wrong Marks : 0

$$\frac{1 - \tan^2 \theta}{\cot^2 \theta - 1} =$$

Options :

1. ✗ $\sec^2 \theta$

2. ✓ $\tan^2 \theta$

3. ✘ $\cot^2 \theta$

4. ✘ $\sin^2 \theta$

Question Number : 47 Question Id : 134007753 Question Type : MCQ Option Shuffling : No Is
Question Mandatory : No Calculator : None Response Time : N.A Think Time : N.A Minimum
Instruction Time : 0
Correct Marks : 1 Wrong Marks : 0

اگر $(1, 2k)$ ، $(1, -4)$ اور $(7, -k)$ ہم خط ہیں تب k کی قدر ہے۔

Options :

1. ✘ 2

2. ✘ 1

3. ✔ -2

4. ✘ -1

Question Number : 48 Question Id : 134007754 Question Type : MCQ Option Shuffling : No Is
Question Mandatory : No Calculator : None Response Time : N.A Think Time : N.A Minimum
Instruction Time : 0
Correct Marks : 1 Wrong Marks : 0

دیا گیا ہے کہ $f(z) = (z-1)(z-2)(z-3)$ اگر $f(z)$ کو $z-4$ سے تقسیم کیا جائے تب باقی یہ ہوتا ہے۔

Options :

1. ✓ 6

2. ✘ 0

3. ✘ 24

4. ✘ 12

Question Number : 49 Question Id : 134007755 Question Type : MCQ Option Shuffling : No Is Question Mandatory : No Calculator : None Response Time : N.A Think Time : N.A Minimum Instruction Time : 0

Correct Marks : 1 Wrong Marks : 0

3³ × 7² × 2⁶ اور 3⁵ × 5³ × 2⁴ کا ا.م.ع (HCF) یہ ہے۔

Options :

1. ✘ 3⁵ × 5³ × 2⁶

2. ✘ 2 × 3 × 5 × 7

3. ✘ 3⁵ × 5³ × 7² × 2⁶

4. ✓ 3³ × 2⁴

Question Number : 50 Question Id : 134007756 Question Type : MCQ Option Shuffling : No Is Question Mandatory : No Calculator : None Response Time : N.A Think Time : N.A Minimum Instruction Time : 0

Correct Marks : 1 Wrong Marks : 0

اگر ماہ اپریل کا پہلا دن ہفتہ ہے تب اپریل میں کوئی بھی دن ہفتہ کا دن نہ ہونے کا قیاس یہ ہے۔

Options :

1. ✘ $\frac{1}{2}$

2. ✔ $\frac{5}{6}$

3. ✘ $\frac{13}{15}$

4. ✘ $\frac{1}{6}$

Question Number : 51 Question Id : 134007757 Question Type : MCQ Option Shuffling : No Is Question Mandatory : No Calculator : None Response Time : N.A Think Time : N.A Minimum Instruction Time : 0

Correct Marks : 1 Wrong Marks : 0

اگر a, b, c جیومیٹرک تصاعد میں ہیں اور p, q, r حسابی تصاعد میں ہیں تب $a^{(p-q)} \times b^{(r-p)} \times c^{(q-r)}$

Options :

1. ✘ $a \times b \times c$

2. ✘ $p + q + r$

3. ✘ 0

1

4. ✓

Question Number : 52 Question Id : 134007758 Question Type : MCQ Option Shuffling : No Is Question Mandatory : No Calculator : None Response Time : N.A Think Time : N.A Minimum Instruction Time : 0

Correct Marks : 1 Wrong Marks : 0

اگر مثلث کے اضلاع میں نسبت $1:\sqrt{3}:2$ ہے۔ تب اس کے زاویوں میں نسبت یہ ہوتی ہے۔

Options :

1. ✘ $1:\sqrt{3}:\sqrt{2}$

2. ✘ $1:\sqrt{2}:3$

3. ✓ $1:2:3$

4. ✘ $\sqrt{3}:1:2$

Question Number : 53 Question Id : 134007759 Question Type : MCQ Option Shuffling : No Is Question Mandatory : No Calculator : None Response Time : N.A Think Time : N.A Minimum Instruction Time : 0

Correct Marks : 1 Wrong Marks : 0

$\Delta ABC \sim \Delta DEF$ اور ΔABC اور ΔDEF کے احاطے ترتیب وار 36 سم اور 24 سم ہیں۔

اگر 4 سم $EF =$ ہے تب $BC =$

Options :

1. ✘ 8

2. ✘ 12

3. ✘ 4

4. ✔ 6

Question Number : 54 Question Id : 134007760 Question Type : MCQ Option Shuffling : No Is Question Mandatory : No Calculator : None Response Time : N.A Think Time : N.A Minimum Instruction Time : 0

Correct Marks : 1 Wrong Marks : 0

فرض کرو کہ $A = \{a, e, i, o, u\}$ اور $B = \{a, i, u\}$ تب $(A - B) \cap B =$

Options :

1. ✘ $\{a, e, i, o, u\}$

2. ✘ $\{a, i, u\}$

3. ✔ $\{ \}$

4. ✘ $\{e, o\}$

Question Number : 55 Question Id : 134007761 Question Type : MCQ Option Shuffling : No Is Question Mandatory : No Calculator : None Response Time : N.A Think Time : N.A Minimum Instruction Time : 0

Correct Marks : 1 Wrong Marks : 0

ایک مخروط اور ایک استوانہ کے قاعدے کے نصف قطر مساوی ہیں اور ان کی بلندیاں بھی مساوی ہیں۔ تب ان کے حجم میں نسبت ہے۔

Options :

1. ✓ 1 : 3

2. ✘ 1 : 2

3. ✘ $\sqrt{2} : 1$

4. ✘ $\sqrt{3} : 1$

Question Number : 56 Question Id : 134007762 Question Type : MCQ Option Shuffling : No Is Question Mandatory : No Calculator : None Response Time : N.A Think Time : N.A Minimum Instruction Time : 0

Correct Marks : 1 Wrong Marks : 0

7 سمر نصف قطر والے دائرے کے مرکز سے 25 سمر دور واقع نقطہ سے کھینچے مماس کا طول یہ ہے۔

Options :

1. ✘ 21 سمر

2. ✘ 23 سمر

3. ✘ 22 سمر

4. ✓ 24

Question Number : 57 Question Id : 134007763 Question Type : MCQ Option Shuffling : No Is Question Mandatory : No Calculator : None Response Time : N.A Think Time : N.A Minimum Instruction Time : 0

Correct Marks : 1 Wrong Marks : 0

$$\sec 55^\circ \cdot \sin 35^\circ =$$

Options :

1. ✓ 1

2. ✘ -1

3. ✘ ∞

4. ✘ 0

Question Number : 58 Question Id : 134007764 Question Type : MCQ Option Shuffling : No Is Question Mandatory : No Calculator : None Response Time : N.A Think Time : N.A Minimum Instruction Time : 0

Correct Marks : 1 Wrong Marks : 0

تاش کے deck میں موجود تمام پتوں کو اچھی طرح منتشر کر کے ان میں سے ایک کارڈ نکالا گیا یہ ”بادشاہ“ ہونے کا قیاس یہ

ہے۔

Options :

1. ✘ $\frac{2}{13}$

2. ✓ $\frac{1}{13}$

3. ✘ $\frac{12}{13}$

4. ✘ $\frac{11}{13}$

Question Number : 59 Question Id : 134007765 Question Type : MCQ Option Shuffling : No Is Question Mandatory : No Calculator : None Response Time : N.A Think Time : N.A Minimum Instruction Time : 0

Correct Marks : 1 Wrong Marks : 0

اگر $x, x+2, x+4, x+6$ اور $x+8$ کا حسابی اوسط 10 ہے تب 'x' کی قدر ہے۔

Options :

1. ✘ 4

2. ✘ 5

3. ✓ 6

4. ✘ 3

Question Number : 60 Question Id : 134007766 Question Type : MCQ Option Shuffling : No Is Question Mandatory : No Calculator : None Response Time : N.A Think Time : N.A Minimum Instruction Time : 0

Correct Marks : 1 Wrong Marks : 0

اگر $\sec \theta + \tan \theta = p$ تب $\sec \theta - \tan \theta$ کی قدر یہ ہوتی ہے۔

Options :

1. ✓ $\frac{1}{p}$

2. ✗ $-p$

3. ✗ 1

4. ✗ $\frac{-1}{p}$

Physical Sciences

Section Id :	13400754
Section Number :	5
Section type :	Online
Mandatory or Optional :	Mandatory
Number of Questions :	10
Number of Questions to be attempted :	10
Section Marks :	10
Enable Mark as Answered Mark for Review and Clear Response :	Yes
Maximum Instruction Time :	0
Sub-Section Number :	1
Sub-Section Id :	13400760
Question Shuffling Allowed :	Yes
Is Section Default? :	null

Question Number : 61 Question Id : 134007767 Question Type : MCQ Option Shuffling : No Is Question Mandatory : No Calculator : None Response Time : N.A Think Time : N.A Minimum Instruction Time : 0

Correct Marks : 1 Wrong Marks : 0

مقرر آئینہ کے ذریعہ مجازی خیال حاصل کرنے کے لئے

Options :

1. ✘ شے کو F اور C کے درمیان رکھنا چاہیے۔

2. ✔ شے کو P اور F کے درمیان رکھنا چاہیے۔

3. ✘ شے کو C سے پرے رکھنا چاہیے۔

4. ✘ شے کو لامتناہی فاصلے پر رکھنا چاہیے۔

Question Number : 62 Question Id : 134007768 Question Type : MCQ Option Shuffling : No Is Question Mandatory : No Calculator : None Response Time : N.A Think Time : N.A Minimum Instruction Time : 0

Correct Marks : 1 Wrong Marks : 0

$2\text{NaOH} + \text{Zn} \rightarrow \text{X} + \text{H}_2$ کی شناخت کیجئے۔

Options :

1. ✘ NaZnO_2

2. ✘ NaZnOH

3. ✘ NaZn(OH)_2

4. ✔ Na_2ZnO_2

Question Number : 63 Question Id : 134007769 Question Type : MCQ Option Shuffling : No Is Question Mandatory : No Calculator : None Response Time : N.A Think Time : N.A Minimum Instruction Time : 0

Correct Marks : 1 Wrong Marks : 0

نمک برقی طور پر ہوتے ہیں۔

Options :

1. ✓ تعدیلی

2. ✗ مثبت

3. ✗ منفی

4. ✗ مثبت اور منفی دونوں

Question Number : 64 Question Id : 134007770 Question Type : MCQ Option Shuffling : No Is Question Mandatory : No Calculator : None Response Time : N.A Think Time : N.A Minimum Instruction Time : 0

Correct Marks : 1 Wrong Marks : 0

نظر کی بعید بینی میں بتلا ایک شخص کے لئے بصری عدد سے کا اقل ترین ماسکی طول ہوتا ہے۔

Options :

1. ✗ 2.27 cm سے کم

2. ✓ 2.27 cm سے زیادہ

2.5 cm کے مساوی

3. ✘

2.5 cm سے کم

4. ✘

Question Number : 65 Question Id : 134007771 Question Type : MCQ Option Shuffling : No Is Question Mandatory : No Calculator : None Response Time : N.A Think Time : N.A Minimum Instruction Time : 0

Correct Marks : 1 Wrong Marks : 0

ذیلی خول 'س' میں الیکٹرانوں کی آءظم ترین تعداد ہو سکتی ہے۔

Options :

2

1. ✘

6

2. ✘

10

3. ✘

14

4. ✔

Question Number : 66 Question Id : 134007772 Question Type : MCQ Option Shuffling : No Is Question Mandatory : No Calculator : None Response Time : N.A Think Time : N.A Minimum Instruction Time : 0

Correct Marks : 1 Wrong Marks : 0

سوڈیم کلورائیڈ کے قلم میں Na^+ , Cl^- کا ربطی عدد بالترتیب ہوتا ہے۔

Options :

1 , 17

1. ✘

2. ✘ 17, 1

3. ✔ 6, 6

4. ✘ 11, 35.5

Question Number : 67 Question Id : 134007773 Question Type : MCQ Option Shuffling : No Is Question Mandatory : No Calculator : None Response Time : N.A Think Time : N.A Minimum Instruction Time : 0

Correct Marks : 1 Wrong Marks : 0

سلفائیڈ کچدھات کے ارتکاز کے لئے استعمال کیا جانے والا طریقہ

Options :

1. ✔ جھاگ تیراؤ

2. ✘ کیالسی نیشن

3. ✘ بھوننا

4. ✘ متقنا طیبسی علاحدگی

Question Number : 68 Question Id : 134007774 Question Type : MCQ Option Shuffling : No Is Question Mandatory : No Calculator : None Response Time : N.A Think Time : N.A Minimum Instruction Time : 0

Correct Marks : 1 Wrong Marks : 0

الکینس 'Alkanes' کے ہم ترکیبی سلسلے میں 5 کاربن پر مشتمل مرکب کا ضابطہ یہ ہے۔

Options :

1. ✘ $C_5 H_6$

2. ✘ $C_5 H_8$

3. ✘ $C_5 H_{10}$

4. ✔ $C_5 H_{12}$

Question Number : 69 Question Id : 134007775 Question Type : MCQ Option Shuffling : No Is Question Mandatory : No Calculator : None Response Time : N.A Think Time : N.A Minimum Instruction Time : 0

Correct Marks : 1 Wrong Marks : 0

مندرجہ ذیل میں کون فیراڈے کے کلیہ برقی مقناطیسی امالہ کا اطلاق نہیں کرتا ہے۔

Options :

1. ✘ ATM کارڈ

2. ✔ برقی بلب

3. ✘ امالی چولہا

4. ✘ ٹیپ ریکارڈر

Question Number : 70 Question Id : 134007776 Question Type : MCQ Option Shuffling : No Is Question Mandatory : No Calculator : None Response Time : N.A Think Time : N.A Minimum Instruction Time : 0

Correct Marks : 1 Wrong Marks : 0

ذیلی خولوں کے اختلاط کا نظریہ اس نے پیش کیا۔

Options :

1. ✓ (Linus Pouling) لینس پالنگ
2. ✘ (G.N. Lewis) جی۔ این۔ لیوس
3. ✘ (Kossel) کوئیل
4. ✘ (Gillespie) گیلپسپی

Biological Sciences

Section Id :	13400755
Section Number :	6
Section type :	Online
Mandatory or Optional :	Mandatory
Number of Questions :	10
Number of Questions to be attempted :	10
Section Marks :	10
Enable Mark as Answered Mark for Review and Clear Response :	Yes
Maximum Instruction Time :	0
Sub-Section Number :	1
Sub-Section Id :	13400761
Question Shuffling Allowed :	Yes
Is Section Default? :	null

Question Number : 71 Question Id : 134007777 Question Type : MCQ Option Shuffling : No Is Question Mandatory : No Calculator : None Response Time : N.A Think Time : N.A Minimum

Instruction Time : 0

Correct Marks : 1 Wrong Marks : 0

حسب ذیل میں ہضمی ہارمونس (Digestive Harmones) کی شناخت کیجئے۔

(A) پیپسن

(B) ٹریپسن

(C) سکریٹین (Secretin)

(D) کولی سسٹو کائینن (Chole Cystokinin)

(E) سکس انٹریکس (Succus entericus)

Options :

1. ✘ صرف A اور B

2. ✘ صرف B اور C

3. ✔ صرف C اور D

4. ✘ صرف D اور E

Question Number : 72 Question Id : 134007778 Question Type : MCQ Option Shuffling : No Is Question Mandatory : No Calculator : None Response Time : N.A Think Time : N.A Minimum Instruction Time : 0

Correct Marks : 1 Wrong Marks : 0

کس بی۔کمپلکس (B-Complex) وٹامن کی کمی سے فقر الدام (Anaemia) واقع ہوتا ہے۔

Options :

1. ✘ رابوفلیون (Riboflavin)، بائیوٹین (Biotin)
2. ✘ تھیامین (Thiamin) نیاسین (Niacin)
3. ✘ پانٹوتھینک ترشہ (Pantothenic Acid)، رابوفلیون (Riboflavin)
4. ✔ فولک ترشہ (Folic Acid)، پائیریڈاکسن (Pyridoxine)

Question Number : 73 Question Id : 134007779 Question Type : MCQ Option Shuffling : No Is Question Mandatory : No Calculator : None Response Time : N.A Think Time : N.A Minimum Instruction Time : 0

Correct Marks : 1 Wrong Marks : 0

غلط جوڑ کی نشاندہی کیجئے۔

(A) پلائی ہلمینتھس (Platy helminthes) - Renette خلیے

(B) نیماٹوڈا - شعلہ نما خلیے

(C) آرٹھر و پوڈا - سبز خروود

(D) مولسکا (Mollusca) واٹرو اسکوپ لرنظام

Options :

1. ✘ صرف A، C اور D

صرف A، B اور D

2. ✓

صرف B، C اور D

3. ✘

صرف A، B اور C

4. ✘

Question Number : 74 Question Id : 134007780 Question Type : MCQ Option Shuffling : No Is Question Mandatory : No Calculator : None Response Time : N.A Think Time : N.A Minimum Instruction Time : 0

Correct Marks : 1 Wrong Marks : 0

دو دیگر جگتی (Heterozygous) مٹر کے پودوں کے درمیان ایک مخلوطی اختلاط (Monohybrid Cross) کے ذریعہ کتنے فیصد دیگر جگتی نسل (Progeny) حاصل ہوگی۔

Options :

25%

1. ✘

50%

2. ✓

75%

3. ✘

100%

4. ✘

Question Number : 75 Question Id : 134007781 Question Type : MCQ Option Shuffling : No Is Question Mandatory : No Calculator : None Response Time : N.A Think Time : N.A Minimum Instruction Time : 0

Correct Marks : 1 Wrong Marks : 0

بوقی تنفسی کہفہ (Bucco - Pharyngeal Cavity) مندرجہ ذیل کس جانور میں عمل تنفس کے لئے مددگار ہوتا ہے۔

Options :

1. ✓ مینڈک
2. ✘ (Whale) وکیل
3. ✘ (Penguin) پینگوین
4. ✘ ڈالفن

Question Number : 76 Question Id : 134007782 Question Type : MCQ Option Shuffling : No Is Question Mandatory : No Calculator : None Response Time : N.A Think Time : N.A Minimum Instruction Time : 0

Correct Marks : 1 Wrong Marks : 0

درست جملہ کی شناخت کیجئے۔

Options :

1. ✘ ششی شریان (Pulmonary Artery) بائیں بطن (Left Ventricle) کے اوپری حصے سے نکلتی ہے۔
2. ✘ ششی وریدوں میں ششی کھلمندن موجود ہوتی ہے۔
3. ✘ غیر آکسیجنی خون کو ششی ورید پھیپھڑوں (Lungs) سے دل کو لاتی ہے۔
4. ✓ دو ابھاری مصرع (Mitral Valve) بائیں اذینی بطنی کھلمندن میں پایا جاتا ہے۔

Question Number : 77 Question Id : 134007783 Question Type : MCQ Option Shuffling : No Is Question Mandatory : No Calculator : None Response Time : N.A Think Time : N.A Minimum Instruction Time : 0

Correct Marks : 1 Wrong Marks : 0

درست جوڑکی نشاندهی کیجئے۔

ہارمون کا افراز

خود

Options :

1. ✓ Vasopressin

نخامی (Pituitary)

2. ✘ Thyroptin

درقیہ (Thyroid)

3. ✘ Follicle Stimulation Hormone

بیضدان

4. ✘ Adreno Cortico Tropic Hormone

برگردوی (Adrenal)

Question Number : 78 Question Id : 134007784 Question Type : MCQ Option Shuffling : No Is Question Mandatory : No Calculator : None Response Time : N.A Think Time : N.A Minimum Instruction Time : 0

Correct Marks : 1 Wrong Marks : 0

جوڑ ملائیے۔

Rhizome	(i	(Strawberry) اسٹرابیری	(A
Radical buds	(ii	Millingtonia	(B
Bulb	(iii	Colocasia	(C
Stolon	(iv	ادرک	(D
Corm	(v		

Options :

1. ✘ A-iv , B-iii, C-i, D-v

2. ✘ A-ii , B-iii, C-v, D-iv

3. ✔ A-iv , B-ii, C-v, D-i

4. ✘ A-iii , B-iv, C-ii, D-i

Question Number : 79 Question Id : 134007785 Question Type : MCQ Option Shuffling : No Is Question Mandatory : No Calculator : None Response Time : N.A Think Time : N.A Minimum Instruction Time : 0

Correct Marks : 1 Wrong Marks : 0

ذیل میں دی گئی اس شے کی نشاندہی کیجئے جس کی باز دوریت (Recycle) نہیں کی جاسکتی ہے۔

Options :

1. ✔ لکڑی

2. ✘ کاغذ

3. ❌ شیشہ

4. ❌ دھاتیں

Question Number : 80 Question Id : 134007786 Question Type : MCQ Option Shuffling : No Is Question Mandatory : No Calculator : None Response Time : N.A Think Time : N.A Minimum Instruction Time : 0

Correct Marks : 1 Wrong Marks : 0

آلودگاریوں (Pollutants) کا غذائی زنجیر (Food Chain) میں شامل ہونے کا عمل کہلاتا ہے۔

Options :

1. ❌ Biodegradation

2. ❌ Bioremedition

3. ❌ حیاتی تکبیریت (Biomagnification)

4. ✓ حیاتی ذخیر (Bioaccumulation)

Social Studies

Section Id :	13400756
Section Number :	7
Section type :	Online
Mandatory or Optional :	Mandatory
Number of Questions :	20
Number of Questions to be attempted :	20
Section Marks :	20
Enable Mark as Answered Mark for Review and Clear Response :	Yes
Maximum Instruction Time :	0

Sub-Section Number : 1
Sub-Section Id : 13400762
Question Shuffling Allowed : Yes
Is Section Default? : null

Question Number : 81 Question Id : 134007787 Question Type : MCQ Option Shuffling : No Is Question Mandatory : No Calculator : None Response Time : N.A Think Time : N.A Minimum Instruction Time : 0
Correct Marks : 1 Wrong Marks : 0

”شرح ہبوط حرارت“ (Normal Lapse Rate) کے معنی۔

Options :

1. ✓ جیسے جیسے ہم بلندی پر جائیں گے حرارت میں کمی ہونا
2. ✘ بلندی پر جانے کے ساتھ ساتھ حرارت میں اضافہ ہونا
3. ✘ حرارت مستقل رہتی ہے چاہے ہم بلندی پر جائیں یا پستی میں
4. ✘ بلندی پر جانے کے ساتھ ساتھ ہوا کے دباؤ میں اضافہ ہونا

Question Number : 82 Question Id : 134007788 Question Type : MCQ Option Shuffling : No Is Question Mandatory : No Calculator : None Response Time : N.A Think Time : N.A Minimum Instruction Time : 0
Correct Marks : 1 Wrong Marks : 0

منطقہ حارہ کے نزدیک اور خط استوا کے قریب میں یہ گھنے جنگلات پائے جاتے ہیں۔

Options :

1. ✓ منطقہ حارہ کے سردا بہار جنگلات

منطقہ معتدلہ کے سدا بہار جنگلات

2. ✘

منطقہ حارہ کے پت جھڑ کے جنگلات

3. ✘

منطقہ معتدلہ کے پت جھڑ کے جنگلات

4. ✘

Question Number : 83 Question Id : 134007789 Question Type : MCQ Option Shuffling : No Is Question Mandatory : No Calculator : None Response Time : N.A Think Time : N.A Minimum Instruction Time : 0

Correct Marks : 1 Wrong Marks : 0

مندرجہ ذیل میں بچوں کے حقوق کی نشاندہی کیجئے۔

(A) حتی المقدور والدین کے ساتھ رہنے کا حق

(B) تشدد اور ضرر رساں واقعات سے محفوظ رہنے کا حق

(C) اچھی صحت اور طبی نگہداشت کا حق

(D) سرکاری مذہب کی پیروی کرنے کا حق

صحیح جواب کا انتخاب کیجئے۔

Options :

صرف (A) اور (B)

1. ✘

صرف (A)، (B) اور (C)

2. ✔

صرف (B)، (C) اور (D)

3. ✖

صرف (A)، (C) اور (D)

4. ✖

Question Number : 84 Question Id : 134007790 Question Type : MCQ Option Shuffling : No Is Question Mandatory : No Calculator : None Response Time : N.A Think Time : N.A Minimum Instruction Time : 0

Correct Marks : 1 Wrong Marks : 0

اس طرز حکومت میں قانون اور اقلیتوں کی رائے کا احترام ضروری ہوتا ہے۔

Options :

1. ✖ آمرانہ طرز حکومت

2. ✖ بادشاہی طرز حکومت

3. ✔ جمہوری طرز حکومت

4. ✖ جاگیردارانہ طرز حکومت

Question Number : 85 Question Id : 134007791 Question Type : MCQ Option Shuffling : No Is Question Mandatory : No Calculator : None Response Time : N.A Think Time : N.A Minimum Instruction Time : 0

Correct Marks : 1 Wrong Marks : 0

وہ معاہدہ جس کے ذریعہ اساس اور لورین جرمنی کے حوالے کئے گئے تھے۔

Options :

1. ✖ معاہدہ پیرس

2. ✘ معاہدہ ورسیلیز

3. ✘ معاہدہ ٹرائی نان

4. ✔ معاہدہ فرانکفرٹ

Question Number : 86 Question Id : 134007792 Question Type : MCQ Option Shuffling : No Is Question Mandatory : No Calculator : None Response Time : N.A Think Time : N.A Minimum Instruction Time : 0

Correct Marks : 1 Wrong Marks : 0

فرانس کے دستور کے مطابق ان حقوق کو ”فطری اور ناقابل تنسیخ حقوق“ تسلیم کیا گیا تھا۔

(A) زندگی کا حق

(B) تقریر کی آزادی کا حق

(C) اظہار خیال کی آزادی کا حق

(D) قانون کی نگاہ میں برابری کا حق

صحیح جواب کا انتخاب کیجئے۔

Options :

1. ✘ صرف (A) اور (B)

2. ✘ صرف (C) اور (D)

3. ✘ صرف (A)، (B) اور (D)

4. ✔ (A)، (B)، (C) اور (D)

Question Number : 87 Question Id : 134007793 Question Type : MCQ Option Shuffling : No Is Question Mandatory : No Calculator : None Response Time : N.A Think Time : N.A Minimum Instruction Time : 0

Correct Marks : 1 Wrong Marks : 0

ملک میں بڑھتی ہوئی قیمتوں سے متاثر ہونے والے لوگ کون ہیں۔

Options :

1. ✘ مرکزی اور ریاستی دفاتر کے ملازمین

2. ✘ تجارتی سرگرمیاں انجام دینے والے لوگ

3. ✘ خدمات فراہم کرنے والے لوگ جیسے حجام، دھوبی یا ڈرائی کلیننگ کرنے والے

4. ✔ زرعی مزدور اور تعمیری مزدور

Question Number : 88 Question Id : 134007794 Question Type : MCQ Option Shuffling : No Is Question Mandatory : No Calculator : None Response Time : N.A Think Time : N.A Minimum Instruction Time : 0

Correct Marks : 1 Wrong Marks : 0

ریزرو بینک آف انڈیا (RBI) کے علاوہ یہ تنظیم ہندوستان کے دیہی علاقوں میں قرض کے رسمی اداروں کو سہولیات فراہم کرتی ہے۔

Options :

علاقائی دیہی بینک

1. ✘

مڈرا زرعی اور فنی ترقیات کی ہمہ ریاستی امداد باہمی سوسائٹی

2. ✘

اسٹیٹ بینک آف انڈیا

3. ✘

نابارڈ (NABARD)

4. ✔

Question Number : 89 Question Id : 134007795 Question Type : MCQ Option Shuffling : No Is Question Mandatory : No Calculator : None Response Time : N.A Think Time : N.A Minimum Instruction Time : 0

Correct Marks : 1 Wrong Marks : 0

تحریک آزادی کے دوران، مہاتما گاندھی نے ہندوستانی عوام کو 6 اپریل 1919ء کا دن درج ذیل کے طور پر منانے کے لئے کہا۔

Options :

یوم غم

1. ✘

یوم رسوائی اور دغا

2. ✔

مکمل آزادی کا دن

3. ✘

راست عمل کا دن

4. ✘

Question Number : 90 Question Id : 134007796 Question Type : MCQ Option Shuffling : No Is Question Mandatory : No Calculator : None Response Time : N.A Think Time : N.A Minimum

Instruction Time : 0

Correct Marks : 1 Wrong Marks : 0

ہندوستان میں لوک سبھا کی سب سے زیادہ نشستوں کی تعداد والی دوریا ستیں۔

Options :

1. ✓ اتر پردیش اور مہاراشٹرا

2. ✘ مہاراشٹرا اور مغربی بنگال

3. ✘ اتر پردیش اور بہار

4. ✘ بہار اور مغربی بنگال

Question Number : 91 Question Id : 134007797 Question Type : MCQ Option Shuffling : No Is Question Mandatory : No Calculator : None Response Time : N.A Think Time : N.A Minimum Instruction Time : 0

Correct Marks : 1 Wrong Marks : 0

سمندری لہریں ہیں۔

Options :

1. ✘ سطح سمندر پر سمندری پانی کا اتار چڑھاؤ۔

2. ✘ سمندر میں سطح آب کا متواتر اتار چڑھاؤ۔

3. ✓ سمندری پانی کا بہاؤ جو سطح سمندر پر مستقل طور پر ایک واضح سمت میں ہوتا ہے۔

ہوائیں جو زمین سے سمندر کی جانب چلتی ہیں۔

4. ✘

Question Number : 92 Question Id : 134007798 Question Type : MCQ Option Shuffling : No Is Question Mandatory : No Calculator : None Response Time : N.A Think Time : N.A Minimum Instruction Time : 0

Correct Marks : 1 Wrong Marks : 0

مندرجہ ذیل میں فوج داری کیس ہے۔

Options :

کرایہ کے معاہدہ کی خلاف ورزی

1. ✘

جہیز لینا

2. ✔

شادی کے معاہدہ کی خلاف ورزی

3. ✘

املاک کو نقصان پہنچانا

4. ✘

Question Number : 93 Question Id : 134007799 Question Type : MCQ Option Shuffling : No Is Question Mandatory : No Calculator : None Response Time : N.A Think Time : N.A Minimum Instruction Time : 0

Correct Marks : 1 Wrong Marks : 0

مندرجہ ذیل میں حق برائے مفت اور لازمی تعلیم کا قانون (RTE) 2009 کی رعایت ہے۔

Options :

اعلیٰ تعلیم کی تکمیل کی خاطر بچے 14 سال کی عمر کے بعد بھی تھانوی اسکول میں برقرار رہ سکتے ہیں۔

1. ✘

تھانوی تعلیم کی تکمیل کے بعد بچوں کے لیے بورڈ امتحانات منعقد کئے جائیں گے۔

2. ✘

3. ✘ امتحانات میں ناکام ہونے پر بچہ کو اسی جماعت میں برقرار رکھا جائے گا۔

4. ✔ کسی بھی بچہ کو جسمانی سزا یا ذہنی اذیت کا نشانہ نہیں بنایا جائے گا۔

Question Number : 94 Question Id : 134007800 Question Type : MCQ Option Shuffling : No Is Question Mandatory : No Calculator : None Response Time : N.A Think Time : N.A Minimum Instruction Time : 0

Correct Marks : 1 Wrong Marks : 0

مندرجہ ذیل میں حقوق جنگلات کا قانون 2006ء کی مراعات ہیں۔

(A) کسی بھی کمیونٹی جنگلات وسائل کی حفاظت، از سر نو پیداوار یا تحفظ کا حق۔

(B) جنگلات کے سارے دیہاتوں کی تبدیلی اور قیام کے حقوق۔

(C) جنگلاتی علاقے میں رہنے اور زندگی گزارنے کا حق۔

(D) قیمتی درختوں کو کاٹنے اور فروخت کرنے کا حق۔

صحیح جواب کا انتخاب کیجئے۔

Options :

1. ✘ صرف (A) اور (D)

2. ✘ صرف (B) اور (C)

3. ✘ صرف (C) اور (D)

صرف (A)، (B) اور (C)

4. ✓

Question Number : 95 Question Id : 134007801 Question Type : MCQ Option Shuffling : No Is Question Mandatory : No Calculator : None Response Time : N.A Think Time : N.A Minimum Instruction Time : 0

Correct Marks : 1 Wrong Marks : 0

مندرجہ ذیل میں بنیادی پخت بینک جمع کھاتہ سے متعلق درست بیان ہے۔

Options :

1. ✓ اس میں صفر "0" یا بہت کم رقم، کم از کم جمع رقم کے طور پر رکھ سکتے ہیں۔

2. ✘ اس میں کھاتہ کھولنے کے لیے عمر اور آمدنی کی پابندی یا قید ہوتی ہے۔

3. ✘ ایک مہینہ میں زیادہ سے زیادہ 10 مرتبہ رقم نکالنے کی اجازت ہوتی ہے۔

4. ✘ چیک کی سہولت نہیں ہوتی ہے۔

Question Number : 96 Question Id : 134007802 Question Type : MCQ Option Shuffling : No Is Question Mandatory : No Calculator : None Response Time : N.A Think Time : N.A Minimum Instruction Time : 0

Correct Marks : 1 Wrong Marks : 0

افریقہ کے جنوب مغربی حصہ میں واقع ریگستان کہلاتا ہے۔

Options :

1. ✘ اٹاکا ماریگستان

1. ✘

عرب ریگستان

2. ✘

گوبی ریگستان

3. ✘

کالاہاری ریگستان

4. ✔

Question Number : 97 Question Id : 134007803 Question Type : MCQ Option Shuffling : No Is Question Mandatory : No Calculator : None Response Time : N.A Think Time : N.A Minimum Instruction Time : 0

Correct Marks : 1 Wrong Marks : 0

لوگوں کو ان کے بنیادی حقوق کی خلاف ورزی سے محفوظ رکھنے کی ذمہ داری ان کے ہاتھوں میں ہوتی ہے۔

Options :

پارلیمنٹ

1. ✘

صدر جمہوریہ

2. ✘

حکومت

3. ✔

وزیراعظم

4. ✘

Question Number : 98 Question Id : 134007804 Question Type : MCQ Option Shuffling : No Is Question Mandatory : No Calculator : None Response Time : N.A Think Time : N.A Minimum Instruction Time : 0

Correct Marks : 1 Wrong Marks : 0

شملہ معاہدہ پر دستخط ان کے مابین ہوئی تھی۔

Options :

1. ✘ ذوالفقار علی بھٹو اور لال بہادر شاستری
2. ✘ ایوب خان اور اندرا گاندھی
3. ✘ ذوالفقار علی بھٹو اور راجیو گاندھی
4. ✔ ذوالفقار علی بھٹو اور اندرا گاندھی

Question Number : 99 Question Id : 134007805 Question Type : MCQ Option Shuffling : No Is Question Mandatory : No Calculator : None Response Time : N.A Think Time : N.A Minimum Instruction Time : 0

Correct Marks : 1 Wrong Marks : 0

دستور ہند کی اس دفعہ کے تحت، ایکشن کمیشن آف انڈیا، صدر جمہوریہ ہند اور ریاستی گورنروں کی اجازت سے مرکزی اور ریاستی سرکاری ملازمین کی خدمات کو حاصل کرتا ہے۔

Options :

1. ✔ دفعہ (6) 324
2. ✘ دفعہ 329
3. ✘ دفعہ 328

دفعہ 325

4. ✘

Question Number : 100 Question Id : 134007806 Question Type : MCQ Option Shuffling : No Is
Question Mandatory : No Calculator : None Response Time : N.A Think Time : N.A Minimum
Instruction Time : 0
Correct Marks : 1 Wrong Marks : 0

گوتھ بودھ اور ان کے پیروکاروں کی تعلیمات کو اس میں یکجا کیا گیا ہے۔

Options :

1. ✘ (Sutta Pitaka) سٹا پٹکا

2. ✔ (Abhidamma Pitaka) ابھیدما پٹکا

3. ✘ (Vinaya Pitaka) ونا پٹکا

4. ✘ (Gnana Pitaka) گنا پٹکا